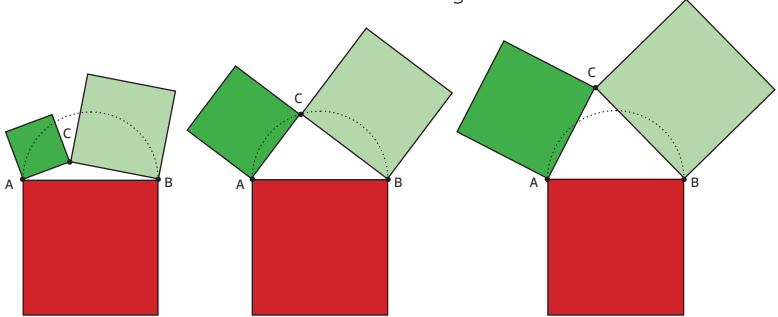
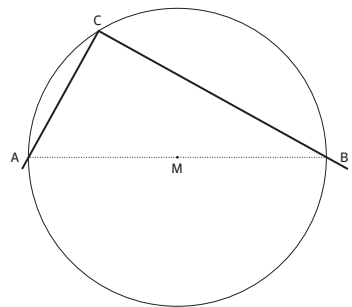


## Thales – Wegbereiter für Pythagoras:

Punkt C wandert vom Innern des Halbkreises über der Strecke AB nach oben – aus dem Halbkreis heraus. Das rote Quadrat bleibt dabei immer stabil – beobachte die grünen Quadrate. Der Punkt C liegt im Innern des Halbkreises, liegt dann auf der Halbkreislinie und wandert in der Folge nach aussen.



- Du hast freie Hand**, die Figuren auszumessen. Was bleibt beim Übergang von einem Fall zum andern fest, was ändert sich? Welche Besonderheit lässt sich im mittleren Bild entdecken?



- Wähle auf dem Halbkreisbogen** ein paar verstreut liegende Positionen für C. Verbinde jedes Mal C mit A und B. Miss den Winkel zwischen den von C nach A und B verlaufenden Schenkeln. Was stellst Du fest?



- Mit Deinen Messungen** hast Du die Richtigkeit des Satzes von Thales erhärtet, aber noch nicht bewiesen. Wieso?



- Die Seiten, die dem rechten Winkel anliegen** (CA und CB), heissen Katheten. Die dem rechten Winkel gegenüberliegende Seite (AB) heisst Hypotenuse. Erkundige Dich im Internet über diese aus dem Griechischen stammenden Begriffe.

## Der Satz des Pythagoras.

- Häufig kommt der Kehrsatz** des Pythagoras zur Anwendung. Wie kann dieser formuliert werden?



Rechtwinklige Dreiecke mit ganzzahligen Seitenlängen heissen **pythagoreische** oder **ägyptische** Dreiecke.

- Suche weitere pythagoreische** Dreiecke! Es gibt mit Sicherheit unendlich viele – warum?



Mit einem zwölfknotigen Seil – wie diesem – wurden in der Antike im Bauwesen und bei Feldvermessungen rechte Winkel abgesteckt.



- Forme mit dem bereitliegenden Seil** und Schreibzeug ein rechtwinkliges Dreieck („Zimmermanns-Dreieck“), ein gleichschenkliges Dreieck, ein Quadrat, eine Raute sowie näherungsweise das Bestimmungsdreieck eines regelmässigen Fünfecks (gemäss Abbildung).

## Das gefaltete Taschentuch:



- Falte ein quadratisches** Taschentuch so, dass wieder ein Quadrat entsteht. Gibt es mehrere Möglichkeiten?



- Gibt es ein** kleinstes und ein grösstes Quadrat?



- Mathematisch spannend ist** die Frage nach der Grösse der Quadrate und ihren gegenseitigen Beziehungen. Was stellst Du fest?



Übrigens: Wenn Du an Stelle des Taschentuchs zu Papier greifst, ergibt sich ein noch besserer Eindruck.

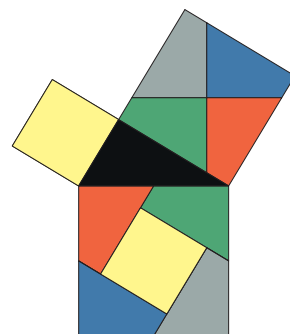
## Vielfach bewiesen: Der Satz des Pythagoras.

Es gibt weit über 100 geometrische und algebraische Beweise zum Satz des Pythagoras – ein Indiz für seine überragende Bedeutung.

Zwei Beweise durch Zerlegen und Umordnen:

### ☞ Schaufelrad-Beweis nach Henry Perigal (1801–1898):

Die Zerlegung besteht aus der kleinstmöglichen Anzahl von fünf Teilen und ist symmetrisch.



- Wickle das vorliegende ALU-Modell** ab beziehungsweise auf. Was beobachtest Du?



- Worin besteht die Kernidee** des Beweises?



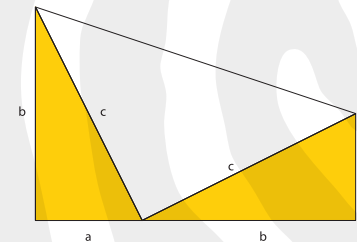
- Wie sieht die Perigal-Konfiguration** bei einem rechtwinklig-gleichschenkligen Dreieck aus?



### ☞ Garfield stellt sich hinter Pythagoras:



- Durch geeignetes Ablegen** der vier (gelben) rechtwinkligen Dreiecke im leeren rechten Feld entsteht ein interessantes Quadrat. Warum? Was erkennst Du in dieser Anordnung? Entdeckst Du Bekanntes aus der Taschentuch-Faltübung?



- Berechne die Summe** der Flächeninhalte der drei Dreiecke aus dem Garfield-Beweis sowie den Flächeninhalt des Trapezes. Zeige: Aus der Gleichwertigkeit der Ansätze folgt:  $a^2 + b^2 = c^2$



## Im Wald des Pythagoras:

- Wieso stehen gleich hohe** „Tannen“ auf einem (Viertel-)Kreis?



- Welche Besonderheit weisen** die Koordinaten der Punkte auf dem 30°, 45°- und 60°-Polstrahl auf?



Die „Tannen“ auf der x- beziehungsweise auf der y-Achse nehmen eine rechnerisch angenehme Sonderstellung ein. Inwiefern lässt dieser Umstand die nächste Frage erahnen?

- Wieso nehmen die** „Tannenhöhen“ längs eines Polstrahls *linear* zu?



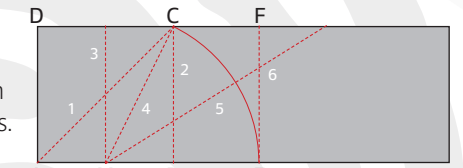
## Der Goldene Schnitt.

- Binde einen einfachen** platten Knoten in einen Papier- oder Stoffstreifen. Überzeuge Dich, dass ein reguläres Fünfeck entsteht.



## Papierfalten: Goldenes Rechteck.

Ein Goldenes Rechteck entsteht durch blosses Falten eines Papierstreifens. Aus dem zu „erfahrenden“

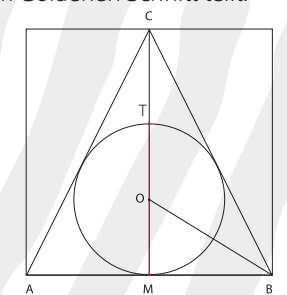


Quadrat ABCD lässt sich die Strecke MC gewinnen, deren Länge die Schlüsselzahl  $\sqrt{5}$  enthält.

- Falte der Reihe** nach entsprechend der Linien 1 bis 6. Bei der Herstellung von Falz 5 (als Halbierende des Winkels CMB) kommt C auf den gegenüberliegenden Papierstreifenrand in E zu liegen. Gestalte mit dem Puzzle aus Goldenen Rechtecken weitere Muster.

Das Dreieck ABC ist ins Quadrat mit der Seite AB eingebettet. Es zeigt sich, dass T die Strecke MC im Goldenen Schnitt teilt.

- Konstruiere den Punkt T** durch „blosses“ Falten eines Blatts Papier.



Zwei Tipps:  
Vom Kreis wird nur der Durchmesser gebraucht. BO ist Winkelhalbierende im Dreieck ABC.

Nach Le Corbusier hat ein Mann mit erhobenem Arm die ideale Masse:

Nabelhöhe: 113 cm  
Scheitelhöhe: 183 cm  
Fingerspitzen bei erhobenem Arm: 226 cm

- Wie steht es** mit Deinen Körpermassen?

Studiere die Vor- und Rückseite einer 10-Franken-Note und informiere Dich dazu im Internet. Bei gewissen Blattanordnungen von Pflanzen dienen Zahlen aus der der Fibonacci-Folge nachgebildeten Lucas-Folge 2, 1, 3, 4, 7, 11, 18, ... zur Beschreibung.



- Wie lautet das** Bildungsgesetz dieser Folge?



- Jede Lucas-Zahl ab 3** ist die Summe zweier Fibonacci-Zahlen. Prüfe diese Aussage an ein paar Beispielen.



- Zeigt sich bei** den Quotienten benachbarter Lucas-Zahlen eine Tendenz? Was vermutest Du?

